
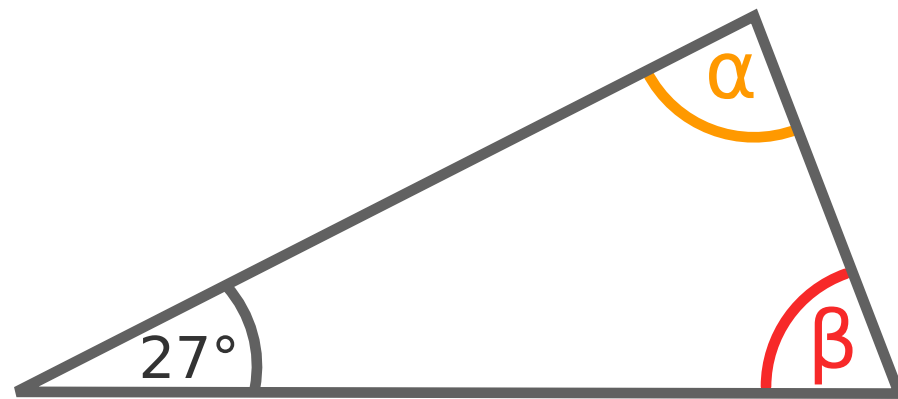


Zapamiętaj

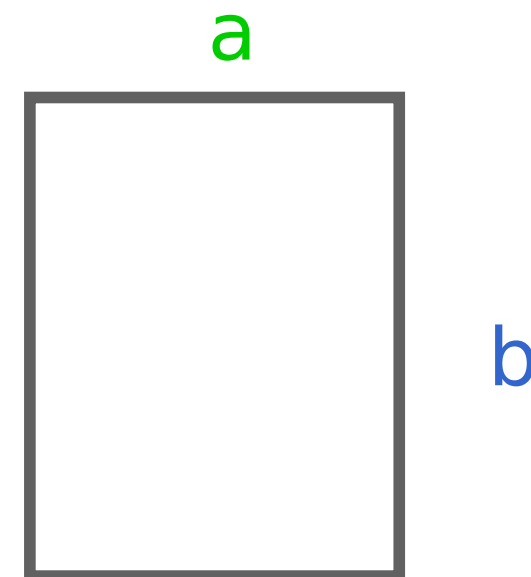


W zadaniach geometrycznych trzeba się zastanowić, jakie informacje mamy podane. Jeśli znamy kąty, układamy równanie o kątach. Jeśli znamy obwód, układamy równanie o obwodzie.



$$\alpha + 15^\circ = \beta$$

$$\alpha + \beta + 27^\circ = 180^\circ$$



$$2 \cdot a + 2 \cdot b = 28$$

