


Zadanie 1

Oceń prawdziwość podanych zdań. Wybierz P jeśli zdanie jest prawdziwe albo F - jeśli zdanie jest fałszywe.

150 % liczby 120 to tyle samo, co 120% liczby 150.	P	F
Liczba 16 stanowi 24% liczby 48	P	F
Liczba, której 60% jest równe 1212,6, to 2021	P	F




Zadanie 4

Do Szkolnego Klubu Tańca zapisało się 56 uczniów. Spośród nich 44 tańczy hip hop, w tym 18 dziewcząt.

Oceń prawdziwość podanych zdań. Wybierz P, jeśli zdanie jest prawdziwe, albo F - jeśli jest fałszywe.

Uczniowie tańczący hip hop stanowią 78% wszystkich członków Szkolnego Klubu Tańca	P	F
Tancerki hip hop stanowią 45% uczniów tańczących hip hop.	P	F


**Zadanie 5**

Oblicz 15% z 20% liczby 2400.



Zadanie 8

Na działce o powierzchni 100 a , sad zajmuje 2500 m^2 , dom 200 m^2 , a ogródek warzywny 120 m^2 . Jaki procent działki stanowi sad? Jaki procent działki nie jest zagospodarowany?



Zadanie 9

Bok trójkąta równobocznego zwiększamy o 40%. Obwód tego trójkąta zwiększy się o :

- a. 140%
- b. 40%
- c. 1,4%
- d. 14%

